



公告試題僅供參考

注意：考試開始鈴(鐘)響前，不可以翻閱試題本

108 學年度科技校院四年制與專科學校二年制
統 一 入 學 測 驗 試 題 本

商業與管理群

外語群英語類、外語群日語類

專業科目(一)：商業概論、計算機概論

【注 意 事 項】

- 1.請核對考試科目與報考群(類)別是否相符。
- 2.請檢查答案卡(卷)、座位及准考證三者之號碼是否完全相同，如有不符，請監試人員查明處理。
- 3.本試卷分兩部份，共 50 題，共 100 分，答對給分，答錯不倒扣。試卷最後一題後面有備註【以下空白】。
第一部份(第 1 至 25 題，每題 2 分，共 50 分)
第二部份(第 26 至 50 題，每題 2 分，共 50 分)
- 4.本試卷均為單一選擇題，每題都有 (A)、(B)、(C)、(D) 四個選項，請選一個最適當答案，在答案卡同一題號對應方格內，用 **2B** 鉛筆塗滿方格，但不超出格外。
- 5.有關數值計算的題目，以最接近的答案為準。
- 6.本試卷空白處或背面，可做草稿使用。
- 7.請在試卷首頁准考證號碼之方格內，填上自己的准考證號碼，考完後將「答案卡(卷)」及「試題」一併繳回。

准考證號碼：

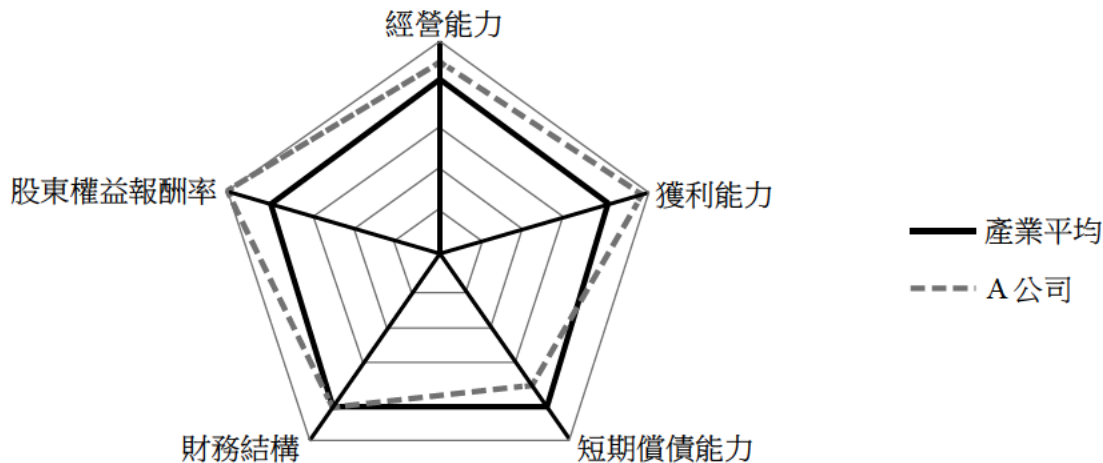
考試開始鈴(鐘)響時，請先填寫准考證號碼，再翻閱試題本作答。

第一部份：商業概論(第 1 至 25 題，每題 2 分，共 50 分)

- 下列敘述何者正確？
 - 從生產鳳梨再製成果醬後販售，此一過程屬於形式生產
 - 按標準生產程序批量生產不同口味的果醬，此為商品客製化
 - 某公司專門生產特殊口味果醬透過通路將商品販售給消費者，此公司屬於零售業
 - 將台灣過剩的低價鳳梨運送到中國大陸以較高的價格販售，屬於效用生產
- 下列有關創業風險的敘述何者正確？
 - 新創公司需大量支出研發費用，卻造成入不敷出面臨倒閉。此屬於資金風險
 - 兩人合夥出資做生意，卻對市場趨勢看法不同而決定拆夥。此屬於資金風險
 - 文創公司跟風生產了特色傳統長衫，因錯估市場需求而積壓大量庫存。此屬於市場風險
 - 因電腦系統設計瑕疵，造成公司客戶的個資外洩。此屬於市場風險
- 某網紅作家從處女作開始，就依靠寫作出版的版稅收入，榮獲近年來作家收入榜的前十名。請問該網紅是屬於何種創業類別？
 - 創意服務類
 - 資訊服務類
 - 專業諮詢類
 - 業務行銷類
- 近年來由於通路商日趨強勢，商品流通模式已漸由供應商主導改為需求鏈廠商主導。在這其中，物流的功能除了運輸配送與倉儲裝卸外，不包括下列何種功能？
 - 包裝
 - 流通加工
 - 分類貼標
 - 製造加值
- 有三個連續的情境：
 - ①身體不適，雖然不想出門，無奈必須親自去看醫生
 - ②醫生診斷為普通感冒發燒，吃藥即可；但不放心又去看了第二位醫生，卻被診斷為腸胃炎發燒，應住院打點滴
 - ③看完兩位醫生後兩天，感覺第二位醫生的診斷比較正確以上情境依序屬於服務的何種特性？
 - 易逝性、變異性、無形性
 - 不可分割性、無形性、變異性
 - 不可分割性、變異性、無形性
 - 變異性、無形性、易逝性
- 某百貨商城推出網路商店販賣傳統百貨，並與知名漁撈公司及超商業者合作，可以線上下單百貨及生鮮漁獲，還可線下超商取貨。請問上列敘述不包含何種特性？
 - 朝向複合經營及多元發展
 - 開發自有品牌
 - 結合虛實通路
 - 採取異業策略聯盟
- 下列有三種網購商品，請依序判斷屬於何種類型的商品？①金石堂網站所販售的暢銷書；②蘋果公司所提供付費下載的音樂；③訂房網所提供的訂房仲介服務。
 - 實體商品、線上服務商品、數位化商品
 - 實體商品、數位化商品、線上服務商品
 - 實體商品、線上服務商品、線上服務商品
 - 線上服務商品、數位化商品、線上服務商品
- 下列關於連鎖企業的敘述何者錯誤？
 - 有共同的 CIS
 - 因地制宜的管理制度
 - 商品服務標準化
 - 共同的經營理念

9. 百貨商場為了降低同質性，強化美食戰力，除了極力爭取國內外獨家品牌合作外，還打破營業時間的限制，擴大深夜食堂戰線。此舉吸引餐飲名店積極進駐。不同餐飲品牌也在不同樓層，推出符合該百貨定位的全新「客製化品牌」。請問百貨商場與餐飲品牌業者的合作是屬於何種異業結盟類型？
- (A) 行銷及售後服務結盟 (B) 技術研究與發展結盟
(C) 生產製造結盟 (D) 財務資源結盟
10. 連鎖咖啡店店長要求新進員工：
- ① 制服穿著、服務流程，促銷說明皆須與總部要求一致
② 內場人員負責製作飲料餐點，外場人員負責送餐與收銀
③ 要求新進人員參照公司編製的指導手冊以便快速上手
請問以上敘述依序屬於何種經營原則？
- (A) 標準化、簡單化、專業化 (B) 簡單化、標準化、專業化
(C) 標準化、專業化、簡單化 (D) 專業化、標準化、簡單化
11. 某市有兩家義大利麵餐廳，A 店位於高級辦公商圈附近，裝潢高雅，可見到衣冠楚楚的男女上班族在裏面聚餐、開會；B 店位於大學附近，經常吃飯時間學生滿座川流不息。關於這兩家商店的市場區隔敘述何者錯誤？
- (A) 在以職業的人口統計變數區隔上存在差異
(B) 在以性別的人口統計變數區隔上存在差異
(C) 在以消費金額的行為變數區隔上存在差異
(D) 在以使用時機的行為變數區隔上存在差異
12. 下列有關行銷管理的敘述何者正確？
- (A) 某雞精品牌透過電視購物頻道強力密集促銷，此屬於密集性配銷
(B) 某醫療器材經銷商透過藥妝店銷售體溫計，此屬於一階通路
(C) 某冷氣製造商透過連鎖 3C 賣場為中間通路以銷售自有品牌，此屬於中間商品牌
(D) 某電器製造商透過一般電器行銷售其商品，若銷售績效佳就給予銷售獎金，此屬於推式策略
13. 在人力資源網站上看到以下敘述，此應屬於何種類型的文件？
- | |
|---|
| 1.負責國外業務
2.開發新業務/專案/專案管理
3.拜訪國外出差/客戶/收集分析市場行銷資訊
4.系統訂單，出貨維護，與客戶溝通訂單，圖面
細節與廠內溝通交期，樣品追蹤
5.維護電子商務平台 |
|---|
- (A) 工作日誌 (B) 工作規範 (C) 工作內容 (D) 工作評價
14. 下列有關薪資的敘述何者正確？
- (A) 績效不易觀察且固定化的工作，宜採行獎金制
(B) 以員工的銷售金額作為其薪資計算的標準，此屬分紅制
(C) 以員工表現超出設定目標時給予額外的獎金，此屬獎工制
(D) 提撥一定比例的盈餘，再根據員工貢獻分配給員工，此屬考績制

15. 張生第一次擔任主管，正準備進行年終績效考核
- ①他認為男性員工比較粗心，因此下屬男性會計人員一定表現較差
 - ②他對員工的評估等級為「表現出色」、「表現普通」、「表現尚可」
 - ③他想當一個親民的主管，因此將所有人的分數定於 80~90 之間
 - ④他認為新進員工朱生能言善道、人緣佳，未來工作表現必定可期
- 請問以上敘述依序犯了何種錯誤？
- (A) 月暈效果、趨中傾向、標準不明、刻板印象
 - (B) 月暈效果、標準不明、趨中傾向、刻板印象
 - (C) 刻板印象、趨中傾向、標準不明、月暈效果
 - (D) 刻板印象、標準不明、趨中傾向、月暈效果
16. 某上市公司與其產業平均的經營比較分析圖如圖(一)。根據圖表，關於該公司的敘述何者錯誤？
- (A) 總資產週轉率應高於同業平均
 - (B) 總資產報酬率應高於同業平均
 - (C) 權益比率應與同業平均相當
 - (D) 流動比率應高於同業平均



17. 簡同學因上完體育課流汗衣服髒臭，再加上一直都是騎自行車通勤上學，因此想到以自行車洗衣的方式。在師長們的協助下完成了自行車洗衣裝置，利用車輪帶動槽身旋轉的技術方法來清洗衣物，作品不但在 2018 德國紐倫堡國際展獲得銀牌，更申請專利獲准。下列關於其專利的敘述何者正確？
- (A) 屬於設計專利，專利權期限自申請日起算 20 年屆滿
 - (B) 屬於設計專利，專利權期限自申請日起算 12 年屆滿
 - (C) 屬於新型專利，專利權期限自申請日起算 12 年屆滿
 - (D) 屬於發明專利，專利權期限自申請日起算 20 年屆滿
18. 下列敘述何者錯誤？
- (A) 「公司要求經銷商不得從事網路銷售，否則將撤銷其經營權」可能違反了限制競爭或妨礙公平競爭的行為
 - (B) 「使用他人商標作為網域名稱搶註冊，導致消費者產生混淆」可能違反了商標侵權
 - (C) 「透過公開的招聘競爭對手員工來獲取技術知識資訊」可能侵犯了智慧財產權，但不屬於不道德行為
 - (D) 「企業經營者為了獲取利益，以不正確或不完整的資訊造成他人誤解而交付財物」之行為，可能屬於詐欺

19. 下列何種行為侵犯了著作權法？
- ① 為回饋社會將院線熱播電影分享到公共網站
 ② 為節約資源向好友借教科書整本複印
 ③ 將政府公告的行事曆影印後送給好朋友使用參考
 ④ 將買來未綁帳號的單機正版軟體光碟借給朋友安裝使用
 ⑤ 考前將考試範圍內的民法條文貼到 line 群組供大家參考
- (A) ①②④ (B) ①②⑤ (C) ①②③④ (D) ①②④⑤
20. 下列電子商務活動依序屬於何種類型？① 消費者在團購網揪網友團購迴轉壽司名店餐券；
 ② 廠商利用政府經貿網平臺與海外客戶完成交易；③ 個人在拍賣網站競標到其他個人賣家的二手硬碟。
- (A) C2B、G2B、C2C (B) C2B、B2B、C2C
 (C) B2C、B2B、C2C (D) C2B、G2B、B2C
21. 某新品牌牙膏欲提高知名度與臭臭鍋連鎖業者合作，在其所屬連鎖店通路內張貼該品牌新產品廣告，強調該產品可長保口氣清新，讓有此顧忌的消費者從此不用擔心，可安心上門享用鍋物，相互帶動商機。此作法屬於何種商業發展模式？
- (A) 業際整合化 (B) 業態多樣化 (C) 通路整合化 (D) 流通型結盟

▲閱讀下文，回答第 22-23 題

邱生響應故鄉農業局推動的「新農民輔導計畫」而返鄉創業，邀約同學好友共 7 人，募資 500 萬元，其中邱生為主要經營者，出資 200 萬元，負有連帶無限清償責任，其餘依出資額負擔清償責任。公司在故鄉種植咖啡樹，並設立咖啡專門店，創建「逗豆咖啡」品牌，提供自行手工烘培的各種口味濾掛咖啡以及相關產品，如逗豆咖啡餅與逗豆咖啡糖等，並於自家專賣店及自家網站上銷售。

22. 請問邱生等人所創公司是屬於何種組織型態？
- (A) 有限公司 (B) 無限公司 (C) 兩合公司 (D) 股份有限公司
23. 該咖啡專賣店將自行手工烘培的各種口味濾掛咖啡以及相關產品均掛上「逗豆咖啡」品牌，此為何種品牌命名決策？
- (A) 個別品牌 (B) 單一家族品牌 (C) 自有中間品牌 (D) 混合品牌

▲閱讀下文，回答第 24-25 題

某公司 2015-2018 年的精簡財務資訊如下表(一)，請回答下列問題：





項目	2015 年	2016 年	2017 年	2018 年
流動比率	2.5	2.0	1.5	1.0
速動比率	1.4	1.2	0.8	0.5
純益率(%)	20	24	26	38
每股市價(元)	48	45	42	60
每股盈餘(元)	3	3	3	5

表(一)

24. 該公司何年的償債能力最差？何年的獲利能力最好？
- (A) 2018、2018 (B) 2016、2017 (C) 2017、2018 (D) 2015、2018
25. 該公司在 2015-2018 年期間，何年的本益比最高？
- (A) 2015 (B) 2016 (C) 2017 (D) 2018

第二部份：計算機概論(第 26 至 50 題，每題 2 分，共 50 分)

26. 小青要從有統計圖表的 PowerPoint 檔案中印一份沒有圖表的簡報資料給老闆，小青開啟該 PowerPoint 檔案後，按「檔案」、「列印」，再來請你幫小青選擇以下哪一個圖案來完成此任務。

- (A)  備忘稿
- (B)  6 張水平投影片
- (C)  大綱
- (D)  全頁投影片

27. 下列哪一種電腦介面是連接螢幕且採用數位訊號傳輸？

- (A) D-SUB (B) HDMI (C) RJ-45 (D) PS/2

28. 有關自然人憑證卡的敘述，下列何者錯誤？

- (A) 由財政部核發
(B) 用來證明個人在網路上的身分
(C) 使用該憑證卡可進行網路報稅
(D) 經由網路及該憑證卡可查詢個人健保資料



29. 有關 OSI (open system interconnection) 模型之敘述，下列何者錯誤？

- (A) OSI 模型的第四層稱為傳輸層
(B) OSI 模型一共有七層
(C) OSI 模型是由國際標準組織 (ISO) 所提出的網路參考模型
(D) HTTP 協定屬於 OSI 模型中的實體層協定

30. 用 HTML 標籤來建立一個 1 列 2 欄的表格 ，<table border="1">與</table>之間的標籤應為下列何項？

- (A) <td><tr> ... </tr><tr> ... </tr></td>
(B) <tr><td> ... </td><td> ... </td></tr>
(C) <td><tr> ... </tr></td><td><tr> ... </tr></td>
(D) <tr><td> ... </td></tr><tr><td> ... </td></tr>

31. 有關 Microsoft Word 定位點的說明，下列何者不正確？

- (A) 在尺規之置中定位點的符號為 
(B) 在尺規之分隔線定位點的符號為 
(C) 在文件編輯區中定位點之間的編輯標記為 →
(D) 在文件編輯區中要將文字放在所設定的定位點位置，要按 Tab 鍵移動插入點

32. 在電子商務交易的安全機制中，下列敘述何者不正確？

- (A) SSL 協定保護交易資料在網路傳輸過程中不被他人窺知
(B) SET 協定在於保障電子交易的安全，客戶端需有電子錢包
(C) 消費者透過 SSL 或 SET 交易均需事先取得數位憑證
(D) SSL 的英文全名為 Secure Socket Layer

33. 有關 PC 上 BIOS 的敘述，下列何者不正確？

- (A) 它所存放的元件位於主機板上 (B) 是開機程序的控制程式
(C) 全名為 Binary Input/Output System (D) 對電腦設備進行一系列的檢查與測試

34. 將 Microsoft Excel 儲存成開放文件格式 (ODF) 的檔案，其副檔名為下列何者？
 (A) .odxl (B) .odx (C) .ods (D) .odt
35. Class A 等級的 IP 位址從 10.0.0.251 至 10.0.1.5 共有幾個 IP 位址？
 (A) 10 個 (B) 11 個 (C) 12 個 (D) 13 個
36. 在設定網頁超連結時，可透過 target 屬性設定目標網頁顯示的位置，下列敘述何者正確？
 (A) target = "_self" 在超連結的相同頁框 (frame) 中顯示要連結的目標網頁
 (B) target = "_blank" 在超連結的相同頁框中顯示空白的網頁
 (C) target = "_parent" 開啟另一新視窗以全畫面顯示要連結的網頁
 (D) target = "_top" 回到上一頁網頁
37. 在 PhotoImpact 中將需要的影像框選留下，刪除其他的部分，是指下列何項操作？
 (A) 剪下 (B) 剪裁 (C) 放大 (D) 刪減
38. 下列何項操作不適合使用 Microsoft Word 文書處理軟體來完成？
 (A) 將照片中的人物套索出來 (B) 撰寫書本的心得報告
 (C) 依格式繕打會議記錄 (D) 編寫修改個人履歷表
39. 執行以下 Visual Basic 的程式片段後，S 的結果為何？
 Dim dataA(3) As Integer : dataA(0)=3 : dataA(1)=4 : dataA(2)=5
 Dim S As Integer : S=0
 Dim idx As Integer
 For idx = 10 To 12
 S = S + idx Mod dataA(idx - 10)
 Next idx
 (A) 5 (B) 6 (C) 7 (D) 8
40. 下列何項是屬於 CLASS C 等級的 IP 位址？
 (A) 10.16.1.1 (B) 172.16.1.1 (C) 192.168.1.1 (D) 255.255.255.0
41. 在網路上散播惡意軟體致生損害於他人者，會有觸犯下列何項法律之嫌？
 (A) 電信法 (B) 著作權法 (C) 刑法 (D) 個人資料保護法
42. 下列 Visual Basic 程式片段執行後，S 的值為何？
 Dim i, S, Maximum As Integer
 S = 0 : Maximum = 5
 Do While Maximum > 0
 For i = 1 To Maximum
 S = S + 1
 Next i
 Maximum = Maximum - 1
 Loop
 (A) 0 (B) 6 (C) 12 (D) 15
43. 若在 Microsoft Excel 的 A1 儲存格中輸入 =AND(6 < 7, NOT(FALSE))，則 A1 儲存格呈現的結果為下列何者？
 (A) TRUE (B) FALSE (C) TRUE, FALSE (D) FALSE, TRUE
44. 有一視訊長 20 秒、其畫面為 300 × 200 像素 (pixels)、每個像素以 3 Bytes 來存放、每秒 20 個畫面，請問不壓縮該視訊所需儲存的資料量為何？
 (A) 60,000 Bytes (B) 180,000 Bytes (C) 3,600,000 Bytes (D) 72,000,000 Bytes

45. Microsoft Excel 中，在 E2 儲存格輸入 =B2 + C2 & "元"，而 B2 及 C2 儲存格的內容分別為 20 及 30，則 E2 儲存格顯示為何？
(A) 50 元 (B) 2030 元 (C) #REF! (D) #VALUE!
46. Windows 7、10 作業系統支援長檔名，檔名命名時一些特殊字元也可以使用，下列何項字元能用於檔名中？
(A) / (B) \ (C) | (D) !
47. 在 PhotoImpact 工具箱中，提供多種繪圖相關工具，下列敘述何者錯誤？
(A) 路徑繪圖工具用來繪製實心且封閉的圖形物件
(B) 輪廓繪圖工具所繪製的圖形內部可以填色
(C) 線條與箭頭工具能繪製直線並可以選擇端點箭頭形式
(D) 路徑編輯工具可以編輯現有圖形物件的路徑
48. 下列哪一項 Visual Basic 運算式執行後的輸出為 4？
(A) Debug.Print(10-6=4) (B) Debug.Print(10/3+10 Mod 3)
(C) Debug.Print("2"+"2") (D) Debug.Print(10\3+3^0)
49. 下列 Visual Basic 程式片段執行後，S 的值為何？
Dim S As Integer : S=0
For k=9 To 16 Step 2
 S=S+k
Next k
(A) 0 (B) 24 (C) 48 (D) 96
50. 若要在 "活頁簿 1" 中的 A1 儲存格設定參照 "活頁簿 3 工作表 3" 中的 B3 儲存格，則下列何者為 A1 儲存格內的正確格式？
(A) =活頁簿 3.xlsx @ 工作表 3 & B3 (B) =[活頁簿 3.xlsx] 工作表 3!B3
(C) =(活頁簿 3.xlsx) 工作表 3#B3 (D) ={活頁簿 3.xlsx} 工作表 3 @ B3

【以下空白】