



公告試題僅供參考

注意：考試開始鈴(鐘)響前，不可以翻閱試題本

107 學年度科技校院四年制與專科學校二年制
統 一 入 學 測 驗 試 題 本

動力機械群

專業科目(一)：應用力學、引擎原理及實習

【注 意 事 項】

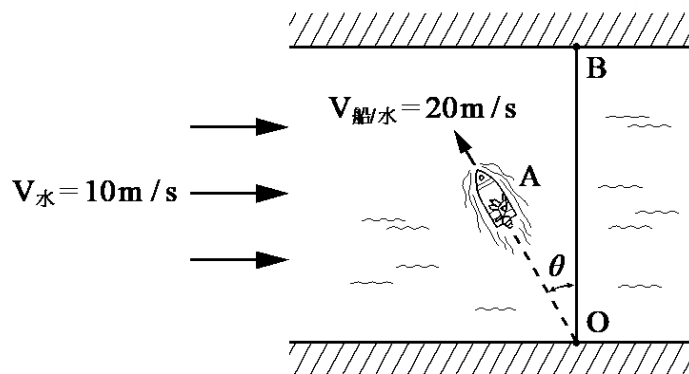
- 1.請核對考試科目與報考群(類)別是否相符。
- 2.請檢查答案卡(卷)、座位及准考證三者之號碼是否完全相同，如有不符，請監試人員查明處理。
- 3.本試卷分兩部份，共 40 題，共 100 分，答對給分，答錯不倒扣。試卷最後一題後面有備註【以下空白】。
第一部份(第 1 至 20 題，每題 2.5 分，共 50 分)
第二部份(第 21 至 40 題，每題 2.5 分，共 50 分)
- 4.本試卷均為單一選擇題，每題都有 (A)、(B)、(C)、(D) 四個選項，請選一個最適當答案，在答案卡同一題號對應方格內，用 **2B** 鉛筆塗滿方格，但不超出格外。
- 5.有關數值計算的題目，以最接近的答案為準。
- 6.本試卷空白處或背面，可做草稿使用。
- 7.請在試卷首頁准考證號碼之方格內，填上自己的准考證號碼，考完後將「答案卡(卷)」及「試題」一併繳回。

准考證號碼：

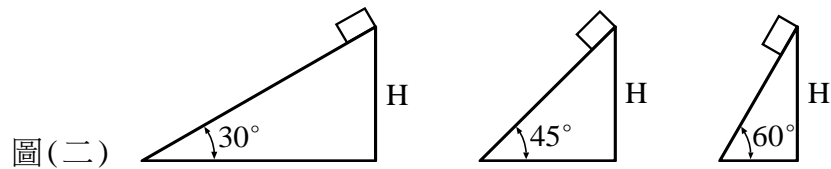
考試開始鈴(鐘)響時，請先填寫准考證號碼，再翻閱試題本作答。

第一部份：應用力學(第 1 至 20 題，每題 2.5 分，共 50 分)

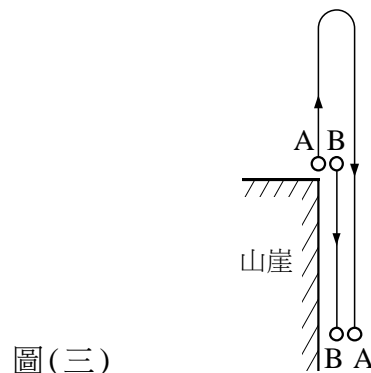
- 下列何者為向量？
(A) 速率 (B) 慣性矩 (C) 功 (D) 重量
- 下列對於同平面力系之敘述何者正確？
(A) 一單力只可分解成水平與垂直分力
(B) 一單力有可能分解成無限多個分力
(C) 一單力之任一分力值一定比原來之單力小
(D) 一單力之大小一定為水平與垂直分力大小之和
- 有關自由體圖繪製之相關敘述，下列何者正確？
(A) 物體在光滑面上之反力必為零
(B) 物體之重量可不通過物體之重心
(C) 滾輪在滾動平面上之反力必為零
(D) 重量不計之軟繩，若有作用力必為張力，且沿繩之方向作用
- 有關力矩之敘述，下列何者正確？
(A) 力矩原理可應用在轉動扳手上
(B) 若力的作用線通過力矩中心或轉軸，力矩不為零
(C) 力矩是物體受一力作用後，對某點或某軸產生平移之趨勢
(D) 若力的作用線與轉軸平行，則在此轉軸旋轉方向之力矩不為零
- 關於摩擦之敘述，下列何者正確？
(A) 摩擦力與接觸面積大小有關
(B) 摩擦係數與接觸面之性質無關
(C) 當摩擦力為最大靜摩擦力時，摩擦角之正切值為靜摩擦係數
(D) 接觸面之總反力(正壓力與最大靜摩擦力之合力)與最大靜摩擦力之夾角稱為摩擦角
- 有兩個幾何形狀及大小相同之滾輪，於地面之滾動阻力係數皆相同，A 輪重量為 W ，B 輪重量為 $2W$ ，則[A 輪滾動摩擦係數：B 輪滾動摩擦係數]為何？
(A) [1：1] (B) [1：2] (C) [2：1] (D) [1：4]
- 皮帶作用於帶輪上，且無滑動發生時，若緊邊張力為 A ，鬆邊張力為 B ，則其有效張力(Effective pull)為何？
(A) 0 (B) $A-B$ (C) $B-A$ (D) $A+B$
- 有一河水之流速 $V_{水}$ 為 10 m/s ，其方向平行河岸；船相對於河水之速度 $V_{船/水}$ 為 20 m/s ，方向與河岸之垂直線夾角 θ ，如圖(一)所示。若要使船從 O 點沿垂直河岸之路線行駛至對岸 B 點，則 θ 為何？
(A) 0° (B) 30° (C) 45° (D) 60°



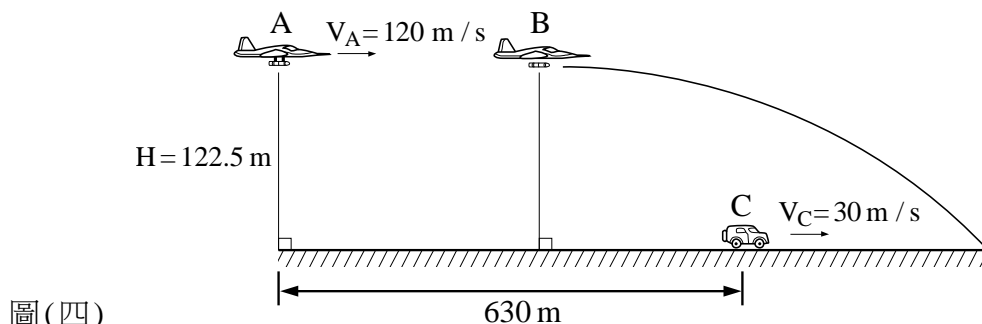
9. 有一質點作直線運動，位移為 $X(m)$ ，速度為 $V(m/s)$ ，加速度為 $a(m/s^2)$ ，時間為 $t(s)$ ；若質點運動位移方程式為 $X=4t-3t^2$ ，下列何者正確？
- (A) 質點初速為 $8 m/s$
 (B) 質點加速度為 $3 m/s^2$
 (C) 質點速度為 0 時，其位移為 $4/3 m$
 (D) 時間 $t=1 s$ 時，質點加速度為 $1 m/s^2$
10. 有三個光滑且無摩擦之固定斜面，其斜角分別為 30° 、 45° 及 60° ，高度皆為 H ，如圖(二)所示，若一物體從靜止開始分別由 30° 、 45° 及 60° 之斜面頂端自由下滑，則下列何者正確？
- (A) 斜面長度比為 $1:\sqrt{2}:\sqrt{3}$
 (B) 沿斜面之加速度比為 $1:2:3$
 (C) 到達斜面底部時的速度比為 $1:2:3$
 (D) 到達斜面底部的時間比為 $2:\sqrt{2}:\frac{2}{\sqrt{3}}$



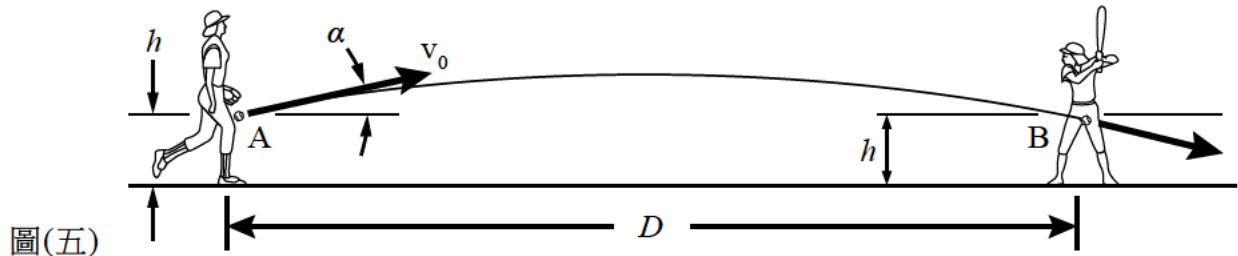
11. 有一物體 A 初速大小為 $29.4 m/s$ 由一山崖邊向上垂直上拋，時間經過 $5 s$ 後，另一物體 B 從山崖邊靜止落下，如圖(三)所示，再經過多久兩物體會相遇？(若不計空氣阻力，且重力加速度大小為 $9.8 m/s^2$)
- (A) $1.25 s$
 (B) $1.5 s$
 (C) $1.75 s$
 (D) $2.0 s$



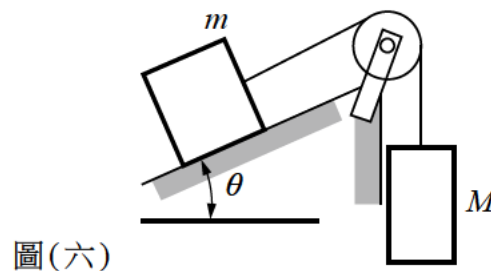
12. 有一在 A 點的轟炸機與在地面 C 點的吉普車水平距離為 $630 m$ ，轟炸機距離地面維持高度 H 為 $122.5 m$ ，轟炸機速度 V_A 固定為 $120 m/s$ ，吉普車速度 V_C 固定為 $30 m/s$ ，且在如圖(四)所示之平面上，則轟炸機由 A 點再飛多久到 B 點投彈可命中吉普車？(假設轟炸機投彈為自然放鬆落下，重力加速度大小為 $9.8 m/s^2$ ，且忽略空氣阻力)
- (A) $1 s$ (B) $2 s$ (C) $3 s$ (D) $4 s$



13. 有一壘球投手投球點 A 點的高度與打擊者擊球點 B 點的高度皆為 h ，兩者間的水平距離 D 為 $0.6 \frac{v_0^2}{g}$ ，其中 g 為重力加速度， v_0 為投手投球之初速，如圖(五)所示。若不計空氣阻力，且球投出之方向與水平線夾角為 α ，則球正好投到 B 點時，其 $\sin 2\alpha$ 值為何？
(註： $\sin 2\alpha = 2 \sin \alpha \cdot \cos \alpha$)
(A) 0.3 (B) 0.6 (C) 0.9 (D) 1.0



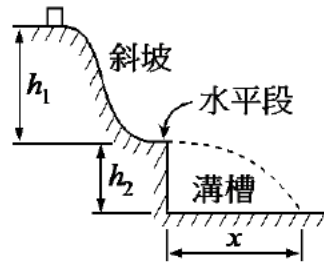
14. 有一 50 kg 的乘客搭乘電梯，此電梯以 2.2 m/s 等速度下降，在到達樓層前 1 s 以等減速度煞車至停止，求此時乘客對電梯地板施加之作用力大小為何？(重力加速度大小為 9.8 m/s^2)
(A) 300 N (B) 400 N (C) 500 N (D) 600 N
15. 如圖(六)所示之滑輪與質量塊系統， $M = 3 \text{ kg}$ 、 $m = 5 \text{ kg}$ 、 $\theta = 30^\circ$ ，質量塊與平面之間為光滑接觸且無摩擦，滑輪亦無摩擦且質量可忽略。當系統從靜止釋放後，其運動狀態，下列敘述何者正確？
(A) M 向下加速 (B) M 向上加速 (C) M 靜止不動 (D) M 等速運動



16. 一顆質量 0.2 kg 之球，在地面上以速度 3 m/s 及 60° 仰角拋出，其軌跡為一拋物線，當球在軌跡最高點時，其向心力大小及方向為何？(g 為重力加速度)
(A) 0.1 g 向下 (B) 0.1 g 向上 (C) 0.2 g 向下 (D) 0.2 g 向上
17. 有一汽車在高速公路匝道等速行駛，若路面為水平，且路面之摩擦係數為 0.25，匝道路徑之曲率半徑為 39.2 m，若要車子不發生側滑，則容許之最高車速大小為多少 m/s？(重力加速度大小為 9.8 m/s^2)
(A) 9.8 (B) 14.7 (C) 19.6 (D) 24.5
18. 下列有關功及功率之敘述，何者錯誤？
(A) 單位時間所作的功，即稱為功率
(B) 固定作用力所作之功為有效力乘以位移
(C) 固定作用力所作之功為作用力乘以有效位移
(D) 一力系對一剛體所作之功，不等於各力單獨對該剛體作功之總和
19. 有一馬達直接驅動之抽水機，每分鐘可將 600 kgw 的水，由地面抽到 9 m 高的水塔，若系統整體的效率為 90%，則所需選用的馬達功率最少為多少 PS？
(A) 2/3 (B) 1 (C) 4/3 (D) 5/3

20. 如圖(七)所示，有一高度為 h_1 之斜坡，斜坡後接一水平段。當一物體從斜坡頂端下滑至水平段後，物體以自由落體下落深度為 h_2 之溝槽，求落至溝槽底部之距離 x 為何？(假設物體與斜坡及水平段之接觸面皆為光滑且無摩擦)

- (A) $\sqrt{h_1 h_2}$ (B) $\sqrt{2h_1 h_2}$ (C) $2\sqrt{h_1 h_2}$ (D) $3\sqrt{h_1 h_2}$

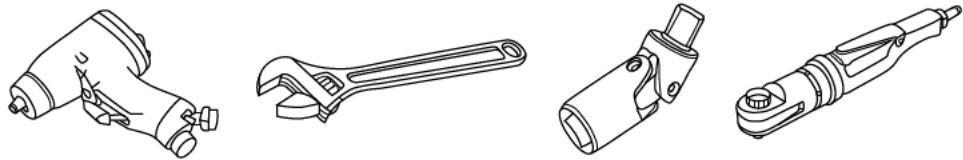


圖(七)

第二部份：引擎原理及實習(第 21 至 40 題，每題 2.5 分，共 50 分)

21. 如圖(八)所示手工工具之名稱，下列何者正確？

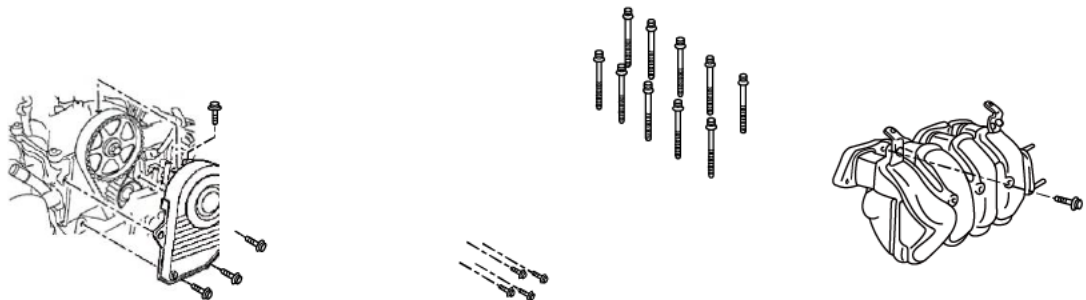
- (A) a 為氣動棘輪扳手，b 為活動扳手，c 為萬向接頭，d 為氣動衝擊扳手
(B) a 為氣動衝擊扳手，b 為萬向接頭，c 為活動扳手，d 為氣動棘輪扳手
(C) a 為氣動棘輪扳手，b 為萬向接頭，c 為活動扳手，d 為氣動衝擊扳手
(D) a 為氣動衝擊扳手，b 為活動扳手，c 為萬向接頭，d 為氣動棘輪扳手



圖(八)

22. 如圖(九)所示引擎本體與附屬組件中，下列何者使用塑性螺栓 (Torque-to-yield bolt，鎖緊扭力至塑性區域之螺栓)？

- (A) a (B) b (C) c (D) d



正時皮帶上蓋

曲軸皮帶盤

汽缸蓋

進氣歧管

圖(九)

23. 適用SAE 10W-40機油的地區，改用SAE 10W機油，會產生何種狀況而明顯降低機油功能？

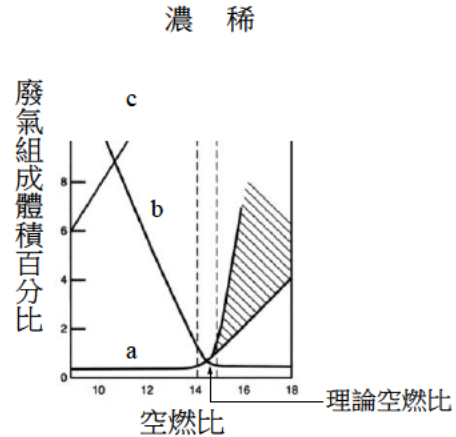
- (A) 氣溫高時，機油黏度太小 (B) 氣溫高時，機油黏度太大
(C) 氣溫低時，機油黏度太小 (D) 氣溫低時，機油黏度太大

24. 關於分解與組合引擎應該注意的事項中，下列敘述何者正確？

- (A) 分解引擎前，引擎外表若有油汙，應先用溶解力較佳的汽油將引擎外表清洗乾淨
(B) 引擎必須完全冷卻後才可以進行分解，主要原因是避免操作時燙傷
(C) 引擎組合過程中，嚴禁使用氣動扳手；引擎拆卸過程中，可全程使用氣動扳手
(D) 拆卸機件前，應先注意原有的記號與方向；必要時須自己做記號，以利正確裝回

25. 汽油引擎排放之 a、b 及 c 三種廢氣組成體積百分比與空燃比關係如圖(十)所示，下列敘述何者正確？

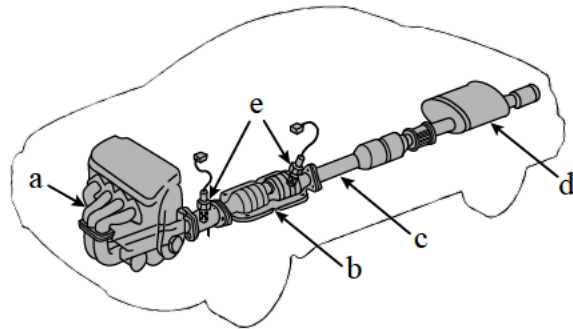
- (A) a 為 O₂ 曲線，b 為 CO 曲線
- (B) b 為 CO₂ 曲線，c 為 HC 曲線
- (C) a 為 CO 曲線，c 為 O₂ 曲線
- (D) a 為 HC 曲線，c 為 CO₂ 曲線



圖(十)

26. 如圖(十一)所示元件之名稱，下列何者正確？

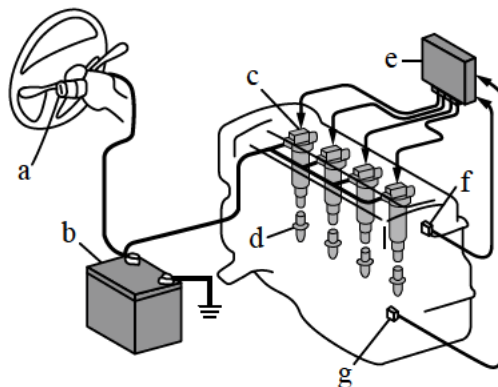
- (A) a 為排氣歧管，b 為三元觸媒轉換器，c 為排氣管，d 為消音器，e 為含氧感知器
- (B) a 為排氣歧管，b 為三元觸媒轉換器，c 為消音器，d 為排氣管，e 為含氧感知器
- (C) a 為排氣歧管，b 為消音器，c 為排氣管，d 為三元觸媒轉換器，e 為含氧感知器
- (D) a 為排氣管，b 為含氧感知器，c 為排氣歧管，d 為消音器，e 為三元觸媒轉換器



圖(十一)

27. 如圖(十二)所示之點火系統，甲技師說：「a 為點火開關，b 為電瓶」，乙技師說：「c 為火星塞，d 為點火線圈附點火器」，丙技師說：「e 為引擎控制電腦，f 為點火線圈附點火器」，丁技師說：「g 為曲軸位置感知器，本點火系統係無分電盤之直接點火系統」。有關技師們的說法，下列敘述何者正確？

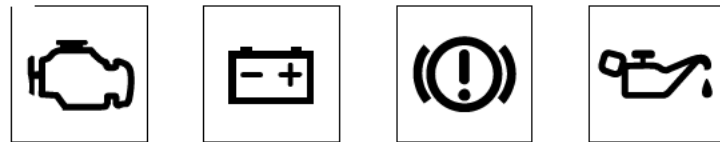
- (A) 甲乙技師是正確的，丙丁技師是錯誤的
- (B) 甲丙技師是正確的，乙丁技師是錯誤的
- (C) 甲丁技師是正確的，乙丙技師是錯誤的
- (D) 甲乙丁技師是正確的，丙技師是錯誤的



圖(十二)

28. 汽車發動必須做好發動前與發動中安全檢查，與此有關之儀錶板上的指示燈和警告燈如圖(十三)所示，下列敘述何者正確？

- (A) a 為空調故障指示燈，b 為電瓶故障警告燈，c 為煞車油位警告燈，d 為冷卻水量警告燈
- (B) a 為引擎故障指示燈，b 為電瓶故障警告燈，c 為電動轉向警告燈，d 為冷卻水量警告燈
- (C) a 為空調故障指示燈，b 為充電警告燈，c 為電動轉向警告燈，d 為機油壓力警告燈
- (D) a 為引擎故障指示燈，b 為充電警告燈，c 為煞車油位警告燈，d 為機油壓力警告燈



圖(十三)

29. 電瓶識別代碼由 a、b、c 及 d 所組成，如圖(十四)所示，34 表示電瓶容量，B 表示電瓶寬度和高度，19 表示電瓶長度，L 表示樁頭方向，下列敘述何者正確？

- (A) 34B19L 電瓶容量比 46B24L 小
- (B) 34B19L 電瓶寬度和高度比 46B24L 小
- (C) 34B19L 電瓶長度比 95B31L 大
- (D) 34B19L 電瓶容量比 34B19R 小



電瓶識別代碼

34	B	19	L
a	b	c	d

圖(十四)

電瓶識別代碼	電瓶容量(AH)		寬度(mm)	高度(mm)
34B19R/L	27	A	162	127
46B24R/L	36	B	203	127 or 129
55B23R/L	48	C	207	135
80B26R/L	55	D	204	173
95B31R/L	64	E	213	176
		F	213	182
		G	213	222
		H	220	278

30. 非電子節氣門式汽油噴射引擎由冷車發動達引擎工作溫度期間，未踩油門下，引擎轉速會由高變低，在此期間觀察感測器及作動器的變化，會有下列何種結果？

- (A) 進氣溫度由高變低
- (B) 空氣流量由大變小
- (C) 節氣門開度由大變小
- (D) 怠速控制閥開度由小變大

31. 若拆卸汽油噴射引擎之汽油濾清器有以下 a 至 e 步驟，下列何者為正確的更換程序？

- a：放鬆汽油濾清器進、出油管固定夾，並拉開進、出油管
- b：發動引擎，直至引擎熄火，再次起動馬達引擎應不能發動
- c：放置抹布於油管接頭下方
- d：拆下汽油泵保險絲
- e：拆下汽油濾清器

- (A) d→b→c→a→e (B) d→b→a→c→e (C) c→a→d→b→e (D) b→d→c→a→e

32. 對具有燃油壓力調整器之汽油噴射引擎，進行燃油系統的油壓檢查時，比較下列各狀態之油壓大小何者正確？

- (A) 引擎運轉中拔掉燃油壓力調整器真空管>怠速時>加速瞬間
- (B) 引擎運轉中拔掉燃油壓力調整器真空管>加速瞬間>怠速時
- (C) 怠速時>加速瞬間>引擎運轉中拔掉燃油壓力調整器真空管
- (D) 加速瞬間>怠速時>引擎運轉中拔掉燃油壓力調整器真空管

33. 若機油壓力警告燈電路由電瓶、點火開關、保險絲、機油壓力警告燈、機油壓力開關及搭鐵以電線串聯而成。當點火開關轉至 ON 時，機油壓力警告燈未亮，且引擎運轉後，亦未亮，據此可得下列何種結論？
- (A) 機油壓力警告燈電路正常，機油壓力正常
(B) 機油壓力警告燈電路異常，機油壓力正常
(C) 機油壓力警告燈電路異常，但無法判斷機油壓力是否正常
(D) 機油壓力太低，但無法判斷機油壓力警告燈電路是否正常
34. 有關汽油引擎冷卻系統之敘述，下列何者正確？
- (A) 壓力式水箱蓋開啟壓力值越高，引擎工作溫度越低
(B) 熱帶型節溫器的初開溫度及全開溫度均較寒帶型節溫器低
(C) 節溫器卡在全開位置，會造成引擎溫度過高
(D) 臘丸式節溫器的開度由引擎控制電腦依水溫感知器訊號控制，水溫越高開度越大
35. 使用量缸錶(缸徑錶)測量一汽缸直徑，選定量缸錶測定桿尺寸為 85mm，墊片尺寸為 3mm，經正確組合將針盤量規(錶)歸零後，再放入汽缸量測直徑時，針盤量規(錶)順時針最大轉動 45 格(每格 0.01mm)，則此汽缸直徑為何？
- (A) 81.55 mm (B) 82.45 mm (C) 87.55 mm (D) 88.45 mm
36. 若下列 a 至 e 為單體引擎拆卸的部分元件，其拆卸步驟之先後順序何者正確？
a：曲軸總成； b：曲軸皮帶盤與正時皮帶； c：活塞與連桿； d：搖臂軸總成、凸輪軸與汽缸蓋； e：油底殼。
- (A) b→e→d→a→c (B) e→c→d→b→a (C) e→b→c→d→a (D) b→d→e→c→a
37. 若安裝搖臂室蓋固定螺栓、油底殼固定螺栓、油底殼放油螺塞及飛輪固定螺栓之鎖緊扭力分別為 a、b、c 及 d，比較鎖緊扭力大小，下列何者正確？
- (A) a > b > c > d (B) d > b > c > a
(C) d > c > b > a (D) d > c > a > b
38. 有一 2042 cc 四缸四行程汽油引擎，其曲軸臂長(曲軸頸至曲軸銷的中心距離)為 45 mm，則活塞直徑約為何？
- (A) 42.5 mm (B) 85.0 mm (C) 106.3 mm (D) 120.2 mm
39. 下列何種情形需要進行引擎分解、清洗與組合？
- a：汽缸密封不良； b：排氣歧管有裂縫； c：引擎因泡水且運轉吸入大量的水； d：噴油嘴阻塞； e：曲軸過度磨損； f：怠速空氣控制閥髒汙。
- (A) a、b、d (B) b、d、f
(C) a、c、e (D) c、e、f
40. 關於二行程汽油引擎與相同排氣量四行程汽油引擎之比較，下列 a 至 g 何者為二行程汽油引擎之特性？
- a：進氣不充分，排氣不乾淨； b：飛輪較重； c：怠速較高； d：潤滑性能較差；
e：低耗油； f：容積效率較高； g：單位馬力之引擎重量較小。
- (A) a、b、c (B) a、d、g
(C) c、e、f (D) e、f、g

【以下空白】