



4-12-1

注意：考試開始鈴(鐘)響前，不可以翻閱試題本

103 學年度科技校院四年制與專科學校二年制
統一入學測驗試題本

家政群幼保類
家政群生活應用類

專業科目(一)：家政概論、家庭教育

公告試題

【注意事項】

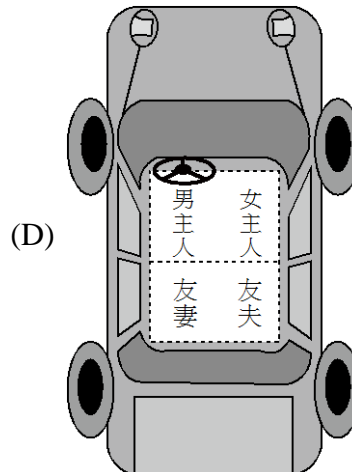
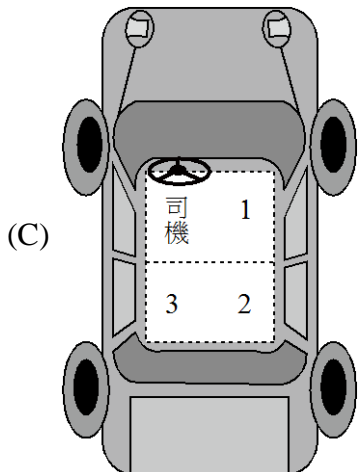
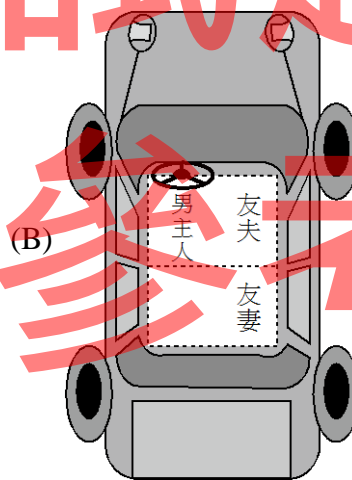
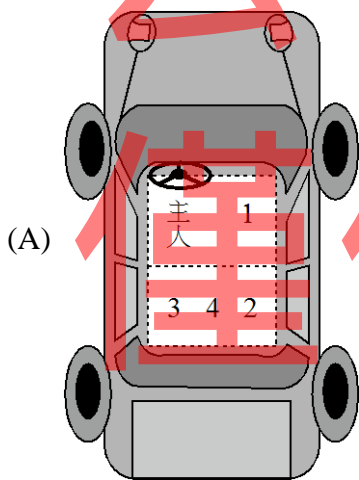
- 1.請核對考試科目與報考群(類別)是否相符。
- 2.請檢查答案卡(卷)、座位及准考證三者之號碼是否完全相同，如有不符，請監試人員查明處理。
- 3.本試卷分兩部份，共 50 題，共 100 分，答對給分，答錯不倒扣。試卷最後一題後面有備註【以下空白】。
第一部份，第 1 至 25 題，共 25 題，每題 2 分，共 50 分。
第二部份，第 26 至 50 題，共 25 題，每題 2 分，共 50 分。
- 4.本試卷均為單一選擇題，每題都有 (A)、(B)、(C)、(D) 四個選項，請選一個最適當答案，在答案卡同一題號對應方格內，用 2B 鉛筆塗滿方格，但不超出格外。
- 5.有關數值計算的題目，以最接近的答案為準。
- 6.本試卷空白處或背面，可做草稿使用。
- 7.請在試卷首頁准考證號碼之方格內，填上自己的准考證號碼，考完後將「答案卡(卷)」及「試題」一併繳回。

准考證號碼：

考試開始鈴(鐘)響時，請先填寫准考證號碼，再翻閱試題本作答。

第一部份：家政概論(第 1 至 25 題，每題 2 分，共 50 分)

- 下列何者為清光緒 29 年，政府頒布之「奏定學堂章程」規定的女學教材？
①《女誡》 ②《詩經》 ③《孝經》 ④《莊子》 ⑤《四書》
⑥《楚辭》 ⑦《列女傳》 ⑧《女訓》
(A) ①③⑤⑦⑧ (B) ①③④⑥⑧ (C) ①④⑥⑦⑧ (D) ①②④⑦⑧
- 下列何者不是腸病毒(濾過性病毒)的感染途徑？
(A) 接觸傳染 (B) 空氣傳染 (C) 糞口傳染 (D) 飛沫傳染
- 根據我國公告之「服飾標示基準」的規定，下列何者不是市售服飾商品標示中應載明的內容？
(A) 價格 (B) 生產國別 (C) 尺寸 (D) 洗燙處理方法
- 下列何者不是當前世界公認時尚潮流的領導中心？
(A) 巴黎 (B) 羅馬 (C) 東京 (D) 倫敦
- 下列哪位學者將嬰幼兒人格發展分為口腔期、肛門期、性器期、潛伏期及兩性期五個階段？
(A) 佛洛伊德(Freud) (B) 皮亞傑(Piaget) (C) 班度拉(Bandura) (D) 馬斯洛(Maslow)
- 關於乘車禮儀，下列搭乘汽車座次的安排，何者錯誤？



7. 下列有關嬰幼兒發展的敘述，何者錯誤？
 (A) 出生後 3 至 4 天，因胎便及尿液排出而體重減輕
 (B) 發展方向是由中心到邊緣
 (C) 骨頭膠質含量較鈣質多
 (D) 個體發展歷程是跳躍的程序
8. 小啟的祖母過世之後，將所有財產 300 萬留給他，此為何種收入？
 (A) 勤勞所得 (B) 財產所得 (C) 臨時收入 (D) 非實收入
9. 家庭教育中心將「品格教育」製成動畫，透過 YouTube 進行宣傳，此種方法是屬於何種家庭教育的推廣方式？
 (A) 專題講座 (B) 大眾傳播 (C) 網路諮詢 (D) 個別指導
10. 下列何者不屬於選購預售屋的優點？
 (A) 依工程進度可分期付款，經濟負擔較輕
 (B) 可隨時監工，確保其品質
 (C) 室內空間設計可以溝通修改，符合需求
 (D) 可先查看完整屋況及結構，風險較低
11. 喜歡運動的小婷有著逆三角形的臉蛋及偏黃的膚色，她應該避免選擇下列何種型式的運動衫，才不易曝露其外貌上的缺點？
 (A) 蘋果綠的圓領衫 (B) 粉紅色的船型領衫
 (C) 藍色的平領衫 (D) 紫色的 V 型領衫
12. 阿華的白色棉質襯衫經常油膩不堪，下列對此襯衫的清潔保養方法，何者錯誤？
 (A) 清洗時，可使用碳酸鈉洗劑 (B) 漂白時，可使用次氯酸鈉漂白劑
 (C) 熨燙時，應順著織物的布紋熨燙 (D) 收藏時，應先上漿以防變形
13. 小麗想選購一種香味持久、賦香率在 20% 以上的香水，下列何者較為適宜？
 (A) 香精 (B) 香露 (C) 古龍水 (D) 花露水
14. 下列有關西餐餐桌禮儀的敘述，何者錯誤？
 (A) 酒杯、水杯應取用右手邊的那一份
 (B) 喝湯時，湯匙由內向外舀，以匙就口
 (C) 切食肉類應用右手拿叉、左手拿刀
 (D) 刀叉應從離盤最外的那一份開始依序使用
15. 小明利用郵購方式買了一雙球鞋，收到商品後隔日，因不滿其顏色而退貨；根據消費者保護法之規定，下列敘述何者錯誤？
 (A) 小明的購買行為是特種買賣的一種
 (B) 小明可用書面通知業者解除買賣契約
 (C) 小明不需負擔退貨的運費
 (D) 業者得扣除手續費後退還剩餘貨款
16. 深井水若含過量砷，長期飲用後會導致下列何種疾病？
 (A) 炭疽病 (B) 烏腳病 (C) 黃疸病 (D) 白血病

17. 針對人類的毛髮生長週期而言，進入到退化期的頭髮數量，約佔總髮量的多少？
(A) 1% (B) 5% (C) 10% (D) 15%
18. 下列有關家庭生活環境安全管理的敘述，何者正確？
(A) 誤食強酸強鹼時，可灌食生蛋白，並立即催吐
(B) 燙傷意外發生時，切記「沖、脫、蓋、泡、送」
(C) 油鍋起火時，可用麵粉或食鹽倒入鍋中滅火
(D) 地震發生時，應立即往屋外跑
19. 小雪想製作「五彩炒飯」，為避免食物交叉污染，下列食材的洗滌順序，何者正確？
(A) 乾香菇→冷凍青豆仁→紅蘿蔔→雞蛋→蝦仁→豬肉
(B) 乾香菇→冷凍青豆仁→紅蘿蔔→豬肉→雞蛋→蝦仁
(C) 冷凍青豆仁→乾香菇→紅蘿蔔→雞蛋→豬肉→蝦仁
(D) 冷凍青豆仁→乾香菇→紅蘿蔔→豬肉→雞蛋→蝦仁
20. 我國依食物的營養特性將食物分成六大類，下列何種分類錯誤？
(A) 奶類：乳酪 (B) 蔬菜類：胡蘿蔔
(C) 五穀根莖類：菱角 (D) 水果類：蕃茄
21. 陳老先生是一名癌症重症病患，其日常生活無法自理且需專業醫療人員照顧，他可以使用下列何種高齡者照顧機構，使晚年生活得到較妥善的照料？
(A) 安養中心 (B) 老人公寓 (C) 護理之家 (D) 仁愛之家
22. 小貞為患有「痛風」的父親調理晚餐，下列菜餚何者較不會加重父親的病情？
(A) 清蒸白鯧魚 (B) 豆苗炒豬肝 (C) 蘆筍炒小管 (D) 涼拌海蜇皮
23. 下列對老年人常見疾病的敘述，何者正確？
(A) 「老年失智症」為大腦皮質急性病變引發的疾病
(B) 「糖尿病」患者空腹血糖值需控制在 80 ~ 120 mg/dl 之間
(C) 「心臟病」為高齡者慢性生理疾病盛行率的第一名
(D) 「老花眼」為眼球角膜老化所引發的視力退化現象
24. 阿美的皮膚微血管明顯，容易發癢脫屑，下列何種日常肌膚保養方法較不適宜？
(A) 選擇不含酒精的保養品 (B) 重視保濕和防曬
(C) 選擇弱酸性洗臉產品 (D) 少蒸臉、勤按摩
25. 依據我國化妝品管理條例之相關規定，下列何者為國外生產輸入「含藥化妝品」之核准字號？
(A) 一般化粧品第○○○○○號 (B) 衛署粧製字第○○○○○號
(C) 衛署粧輸字第○○○○○號 (D) 北市衛粧字第○○○○○號

第二部份：家庭教育(第 26 至 50 題，每題 2 分，共 50 分)

26. 根據聯合國世界衛生組織對「高齡社會」(aged society)的定義：係指一個國家 65 歲以上人口，佔總人口數的多少%？
(A) 7% (B) 14% (C) 21% (D) 28%

27. 關於「113」全國婦幼保護專線所提供民眾的服務，下列敘述何者正確？
 (A) 提供緊急庇護場所、被害人 24 小時緊急救援
 (B) 一年 365 天，天天 24 小時服務，但是農曆春節打烊
 (C) 提供家暴、性侵害、社會救助與身心障礙等法律保護事件
 (D) 提供國、台、客語等語言服務，不提供印、越、泰、柬語等語言服務
28. 根據台灣民法規定，依循法律程序，收養者欲收養他人的子女作為自己的子女，應長於被收養者幾歲以上？
 (A) 15 (B) 20 (C) 25 (D) 30
29. 張先生因太太生重病，需要其親自照顧，張先生可以向公司申請一年七天的家庭照顧假。下列何種法律規定適用於張先生的案例？
 (A) 社會救濟法 (B) 社會工作法 (C) 性別平等教育法 (D) 性別工作平等法
30. 關於性別教育的說明，下列敘述何者正確？
 (A) 小剛是男生，所以個性上應該較剛強
 (B) 我們應該尊重與接納不同的性別角色
 (C) 小美是女生，應該從事幼教老師最適合
 (D) 娘娘腔的男生，應該被訓練得更強壯一些
31. 美麗和自強結婚並育有一子，兩人皆在外地工作賺錢，所以小孩由爺爺奶奶照顧，週末假日才回家。此種家庭組織類型為下列何者？
 (A) 核心家庭 (B) 折衷家庭 (C) 分居家庭 (D) 擴展家庭
32. 我國在 92 年通過家庭教育法，100 年再修正並頒布，明訂高級中學必須採取下列何種措施？
 (A) 於正式課程之外，每學年必須實施四個小時以上之家庭教育課程及活動
 (B) 所有家庭教育課程及活動，父母與孩子都要一起參與
 (C) 沒有問題的學生，可以不必參加有關家庭教育課程及活動
 (D) 可視家庭教育課程及活動情況，對學生酌收微薄工本費
33. 當學校老師獲知某學生在校園中發生疑似被性侵害事件時，依據「性侵害犯罪防治法」之規定，學校老師應優先採取下列哪項措施？
 (A) 於 24 小時內通報
 (B) 須取得家長之同意才可通報
 (C) 為避免二度傷害，須徵得當事人同意才能通報
 (D) 為避免誣告情況，應先確認事件是否發生再行通報
34. 在重組家庭中，下列何者對孩子之發展會造成負面的影響？
 (A) 獲得親友的支持
 (B) 親人在孩子面前數落生父(母)或繼父(母)的不是
 (C) 耐心的等待，讓孩子度過適應期
 (D) 協助孩子突破「糖果屋」與「灰姑娘」故事中的繼母刻板印象
35. 關於家庭教育的現代定義，下列敘述何者最正確？
 (A) 專指討論家人關係的教育
 (B) 專屬於家長的學習內容
 (C) 提供個人與家庭生活所需之知識、能力和態度的教育活動
 (D) 是子女特別需要學習的教育

36. 小提琴家陳美自述她的音樂神童生涯過得一點都不快樂。為確保女兒將全部心思都放在小提琴上，陳媽媽對她做出全天候監控，由穿衣、化妝、銀行存款以至交朋結友，陳美從來沒有選擇權。請問陳美母親的教養方式屬於下列何者？
(A) 忽視冷漠型 (B) 民主開明型 (C) 專制權威型 (D) 若即若離型
37. 我國家庭教育自民國 75 年以來之沿革，其時程順序何者正確？
(A) 倫理道德教育 → 強化親職教育 → 推展學習型家庭 → 公佈實施家庭教育法
(B) 倫理道德教育 → 強化親職教育 → 公佈實施家庭教育法 → 打造新家園－生命歷程家庭教育
(C) 強化親職教育 → 推展學習型家庭 → 公佈實施家庭教育法 → 打造新家園－生命歷程家庭教育
(D) 強化親職教育 → 推展學習型家庭 → 打造新家園－生命歷程家庭教育 → 公佈實施家庭教育法
38. 根據我國內政部的統計資料，97 年的結婚率為 6.0，「6.0」的意思應如何解釋最為正確？
(A) 每百人中有 6.0 對結婚 (B) 每千人中有 6.0 人結婚
(C) 每百人中有 6.0 人結婚 (D) 每千人中有 6.0 對結婚
39. 關於學習型家庭的特色，下列敘述何者正確？
(A) 家庭中的活動愈多，代表家庭的學習型態愈好
(B) 學習型家庭的學習態度，是動態性的持續歷程
(C) 學習型家庭強調競爭的特性，方能促進家人的進步
(D) 家庭中有人進行學習活動，就符合學習型家庭的特色
40. 曉華想要去參加夏令營，父母覺得他應該多花時間準備明年的大考，於是對他說：「好呀！你去呀！或是你乾脆就不要回家，好好玩整個暑假！」前述家庭的溝通是屬於下列何者？
(A) 虛偽的溝通 (B) 雙重訊息的溝通
(C) 間接的溝通 (D) 雙重束縛式的溝通
41. 美麗常為家裡的清潔傷腦筋，多次請先生與兩位青少年的兒女整理一下家裡，都得不到回應。美麗該如何運用「我－訊息」來向家人陳述她的想法？
(A) 我覺得家裡亂七八糟，就讓我心情不好，這會讓我想要罵你們
(B) 我看見你們把家裡弄到亂七八糟，我要抗議，拒絕煮飯
(C) 我看見你們把家裡弄到亂七八糟，你們把我當甚麼人看待
(D) 我想發脾氣，就是因為你們把家裡弄得亂七八糟
42. 關於子職教育的敘述，下列何者正確？
(A) 主要目的在於推動代間教養的風氣
(B) 主要的學習對象是仍在求學階段的孩子
(C) 透過子職教育的實施可以增進人際關係的發展
(D) 通常會強調女孩的家務工作能力
43. 爸爸為了幫助兒子小明改掉咬指甲的壞習慣，告訴小明「只要被我看見你咬指甲，就減少你看卡通的時間」。請問小明的爸爸想運用行為改變技術中的哪種原理，來調整小明的行為？
(A) 懲罰 (B) 消弱 (C) 正增強 (D) 代幣法

44. 台灣家庭未來發展的可能趨勢，下列敘述何者正確？
 (A) 單身家庭數增加 (B) 家庭世代傳承功能提升
 (C) 三民主義世代的生活壓力減緩 (D) 母權型取代父權型的家庭結構
45. 依據杜弗(Duvall)提出之三個時期八個階段的家庭生命週期。春嬌與志明結婚生了一個小孩，現在孩子長大離家。此家庭處於何種階段？
 (A) 擴張期第四階段 (B) 擴張期第五階段 (C) 收縮期第七階段 (D) 收縮期第八階段
46. 關於婚前 CPR 的意義，下列敘述何者正確？
 (A) C 是指對於經營婚姻要有信心
 (B) P 是說明要提升婚姻計畫的能力
 (C) CPR 是補救婚姻生活品質的教育
 (D) R 是強調要獲得經營婚姻與家庭生活的資源
47. 佑寧的同學向他推薦一家舞蹈班，表示該班師資優良、師生互動良好，於是佑寧也想把孩子送去那家舞蹈班學習。依據布朗費布納 (Bronfenbrenner)的生態系統論為架構，對佑寧的孩子來說，佑寧同學的建議是屬於何種生態系統的影響層次？
 (A) 大系統 (B) 小系統 (C) 中間系統 (D) 外部系統
48. 美麗與英俊 2013 年決定結婚，於是在情人節當天宴請親朋好友。2014 年英俊另結新歡英台，也宴請好友，並到戶政事務所登記為夫妻。依據台灣民法規定，下列敘述何者正確？
 (A) 英俊犯了重婚罪
 (B) 英俊騙娶兩女，所以與兩女的婚姻關係同時失效
 (C) 美麗與英俊沒去戶政單位辦理結婚登記，所以不是夫妻，真正的夫妻是英俊與英台
 (D) 美麗與英俊因為有宴請親朋好友，許多人做見證，已具備婚姻的法律保障
49. 楊明是陳勁已死的結拜兄弟楊勇和其妻子念慈所生的兒子。陳勁與楊明在現今台灣的民法上是何種關係？
 (A) 沒有親屬關係 (B) 直系姻親 (C) 旁系血親 (D) 旁系姻親
50. 張生智力量表的評量結果，落在平均數的正二個標準差，則張生的智力在同儕團體中的相對地位大約為何？
 (A) 前 8% (B) 前 13% (C) 前 18% (D) 前 3%

【以下空白】

公告試題 僅供參考