

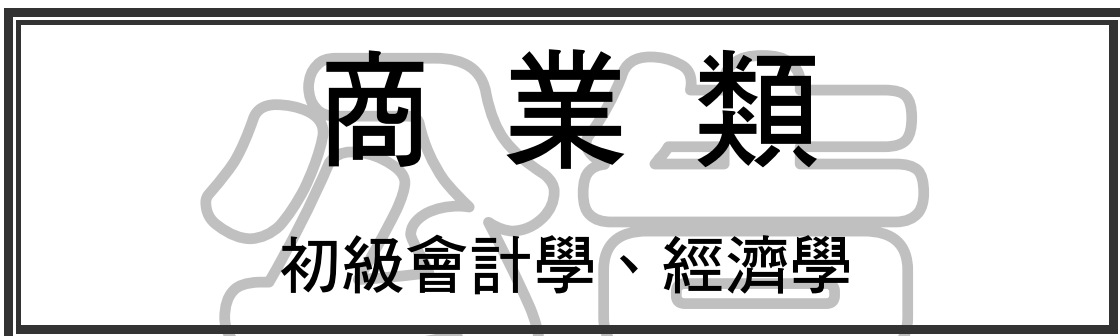


九十六學年度技術校院四年制與專科學校二年制 統一入學測驗試題

准考證號碼：□□□□□□□□

(請考生自行填寫)

專業科目(二)



【注意事項】

1. 請核對考試科目與報考類別是否相符。
2. 請檢查答案卡、座位及准考證三者之號碼是否完全相同，如有不符，請監試人員查明處理。
3. 本試卷分兩部份，共 40 題，共 100 分，答對給分，答錯不倒扣。
第一部份（第 1 至 20 題，每題 2.5 分，共 50 分）
第二部份（第 21 至 40 題，每題 2.5 分，共 50 分）
4. 本試卷均為單一選擇題，每題都有 (A)、(B)、(C)、(D) 四個選項，請選一個最適當答案，在答案卡同一題號對應方格內，用 **2B** 鉛筆塗滿方格，但不超出格外。
5. 本試卷空白處或背面，可做草稿使用。
6. 請在試卷首頁准考證號碼之方格內，填上自己的准考證號碼，考完後將「答案卡」及「試題」一併繳回。
7. 有關數值計算的題目，以最接近的答案為準。

第一部份：初級會計學（第 1 至 20 題，每題 2.5 分，共 50 分）

1. 請判斷下列敘述何者為正確觀念？
 - (A) 購入之商品，品質不佳將其退貨，不貸記進貨，而另設科目，此乃完整性之應用
 - (B) 購買計算機之成本 \$800 列為當期費用，此乃穩健原則之應用
 - (C) 會計處理前後一致，此乃攸關性之應用
 - (D) 企業在每年年底估計呆帳金額，此乃成本原則之應用
2. 下列有關銷貨運費與進貨運費（進貨商品期末尚未出售）的敘述，何者正確？
 - (A) 銷貨運費與進貨運費均為營業費用
 - (B) 銷貨運費為銷貨成本，進貨運費為營業費用
 - (C) 銷貨運費為營業費用，進貨運費為存貨成本
 - (D) 銷貨運費與進貨運費均為銷貨成本
3. 下列有關採用權責基礎制公司，其編製財務報表過程之敘述，何者錯誤？
 - (A) 將發生之交易以日記帳記錄為第一步驟
 - (B) 完成日記帳後即可編製試算表，以節省過帳之時間
 - (C) 完成日記帳後再將相關科目及金額過至分類帳，可方便編製試算表
 - (D) 期末結帳及編表前，公司須進行調整的工作
4. 小明 95 年 1 月 1 日投入現金 \$2,000,000 成立小明餐飲公司，95 年 1 月 3 日支付現金購置餐飲器具 \$100,000，95 年 1 月 3 日向銀行借入 \$500,000（預計於 6 個月後償還），根據以上交易，試問下列有關小明餐飲公司 95 年 1 月 3 日之會計記錄，何者錯誤？
 - (A) 資產金額總計 \$2,400,000
 - (B) 負債金額總計 \$500,000
 - (C) 業主權益金額總計 \$2,000,000
 - (D) 現金餘額 \$2,400,000
5. 下列何種錯誤可藉由編製試算表偵測到？
 - (A) 將應貸記銷貨收入之科目貸記為應付帳款
 - (B) 忘記將某一交易入帳
 - (C) 某分類帳餘額加總錯誤
 - (D) 將客戶償還的欠款記入應付帳款之貸方
6. 如果本期末未做固定資產應提列折舊的調整，其他會計處理皆正確，則：
 - (A) 本期期末業主權益被低估
 - (B) 本期淨利被低估
 - (C) 本期費用被低估
 - (D) 本期期末資產被低估
7. 甲公司 95 年期初的流動負債為 \$3,000,000，流動比率為 2，請問甲公司 95 年期初的營運資金為：
 - (A) \$1,500,000
 - (B) \$3,000,000
 - (C) \$4,500,000
 - (D) \$6,000,000

8. 南開公司在 4 月 5 日賒購一批商品 \$300,000，付款條件是 2/10，1/20，n/30，請問下列何者正確？
- (A) 如果南開公司在同年 4 月 9 日才付款，應付 \$240,000
 (B) 如果南開公司在同年 4 月 17 日才付款，應付 \$297,000
 (C) 如果南開公司在同年 4 月 28 日才付款，應付 \$294,000
 (D) 南開公司最遲應該在同年 4 月 30 日付款
9. 企業設置零用金，若期末「現金短溢」帳戶產生貸方餘額，在期末財務報表上應如何表示？
- (A) 在損益表上列為營業外收益 (B) 在損益表上列為營業收入
 (C) 在損益表上列為營業外費用 (D) 在資產負債表上列為現金的減項
10. 東南公司於 95 年 2 月 1 日銷售商品並取得 1 年不付息之票據面額 \$500,000，東南公司於 95 年 5 月 1 日持該票據向銀行貼現，貼現率為年息 6%，試計算該公司貼現時可取得的金額是多少？
- (A) \$477,500 (B) \$479,500 (C) \$481,250 (D) \$501,375
11. 關於金融證券投資會計處理，下列敘述何者正確？
- (A) 持有至到期日之債券投資，期末不必以市價評價
 (B) 投資股票持有比例在 20% 以下且不具影響力者，一律採成本法評價
 (C) 無論分類為交易目的、備供出售或持有至到期日，交易成本皆列為當期費用
 (D) 無論分類為交易目的、備供出售或持有至到期日，期末皆應做減損測試
12. 仁愛公司 1 月 1 日至 9 月 1 日的帳載財務資料為：期初存貨 \$40,000，進貨 \$200,000，進貨折讓 \$3,000，進貨費用 \$6,000，銷貨收入 \$250,000，銷貨折讓 \$2,000，預估銷貨毛利率為 25%，該公司同年 9 月 2 日發生火災，存貨全部燒毀無殘值，但該存貨燒毀損失可獲得保險公司全部賠償，請問保險公司應該賠償多少？
- (A) \$45,000 (B) \$57,000 (C) \$60,000 (D) \$63,000
13. 台東公司採定期盤存制，94 年期末存貨成本為 \$100,000 (存貨 1,000 件)，95 年期末存貨成本，若按後進先出法計算為 \$120,000 (存貨 1,400 件)，今知 95 年度台東公司只進貨一次，則其 95 年度進貨單價為：
- (A) \$40 (B) \$45 (C) \$48 (D) \$50
14. 東台公司於 95 年 1 月 1 日以每股 \$40 買入南台公司普通股 50,000 股。南台公司共有 200,000 股流通在外，其他資料如下：
- 南台公司 95 年支付每股 \$2 的現金股利
 南台公司 95 年稅後淨利為 \$1,000,000
- 若東台公司以權益法處理此一投資行為，則東台公司 95 年 12 月 31 日之「採權益法之長期股權投資」科目餘額是多少？
- (A) \$1,900,000 (B) \$2,150,000 (C) \$2,250,000 (D) \$2,350,000

15. 信義公司決定以舊機器外加現金 \$60,000，換入同類之新機器，該交換交易具有商業實質，舊機器原始成本為 \$100,000，交換當日其他資料為：舊機器的公平價值為 \$35,000，舊機器的累計折舊為 \$55,000。請問下列有關信義公司交換當日之敘述何者正確？
 (A) 新機器入帳金額為 \$105,000 (B) 舊機器帳面價值為 \$65,000
 (C) 應認列資產交換損失 \$10,000 (D) 不必認列資產交換損失
16. 根據我國財務會計準則公報第三十五號「資產減損之會計處理準則」的規定，下列哪一種資產不屬於該公報規範適用的資產項目？
 (A) 機器設備 (B) 專利權 (C) 商譽 (D) 存貨
17. 有關專利權的會計處理，下列敘述何者錯誤？
 (A) 專利權來自向外購買時，以實際支付之價款為其成本
 (B) 專利權訴訟敗訴時，訴訟支出及賠償支出列為當期費用
 (C) 專利權的攤銷一般常採用直線法攤銷
 (D) 專利權的攤銷年限，應選擇經濟年限與法定年限較長之年限攤銷
18. 下列跟公司負債有關之敘述，何者正確？
 (A) 將於一年內到期之長期負債，不需轉列為流動負債
 (B) 「應付現金股利」科目為股東權益減項，不得列為公司的流動負債
 (C) 極有可能發生且金額可合理估計之或有損失，基於穩健原則，損失應予預計入帳
 (D) 公司的「銀行透支」與「銀行存款」分屬二個不同銀行時，二帳戶可互相抵銷後列帳
19. 西北公司為促銷茶葉，決定自 95 年起每賣一罐茶葉，即贈送顧客一張點券，顧客集滿 10 張點券，可向西北公司的門市換取一個價值 \$100 的水晶杯，且點券無到期日。依經驗預估，60% 的點券會被兌換成水晶杯。西北公司在 95 年共賣出 100,000 罐茶葉，其中 25,000 張點券已兌換水晶杯。試問西北公司 95 年底資產負債表上「估計應付贈品」之金額是多少？
 (A) \$200,000 (B) \$250,000 (C) \$300,000 (D) \$350,000
20. 東北公司 92 年 12 月 31 日溢價發行面額 \$1,000,000 之三年期公司債，每年 12 月 31 日付息一次，並採利息法攤銷溢價。有關該公司每年付息金額、利息費用及溢價攤銷金額的資料如下：

| 付息日期 | 付息金額 | 利息費用 | 攤銷金額 |
|----------------|----------|----------|----------|
| 93 年 12 月 31 日 | \$80,000 | \$63,208 | \$16,792 |
| 94 年 12 月 31 日 | 80,000 | 62,200 | 17,800 |
| 95 年 12 月 31 日 | 80,000 | 61,132 | 18,868 |

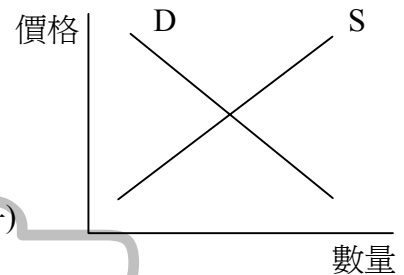
請問發行時市場利率與該公司債票面利率各為多少？

- (A) 5.0% ; 8.0% (B) 6.0% ; 8.0% (C) 6.5% ; 8.0% (D) 8.0% ; 7.0%

第二部份：經濟學（第 21 至 40 題，每題 2.5 分，共 50 分）

21. 小珂獲得若干個暑假工讀機會，分別是到甲、乙、丙、丁等四家公司任職，其工讀金依序分別為 7 千元、8 千元、9 千元及 1 萬元；工作時間及其他條件皆相同，若小珂最後選擇前往丁公司任職，請問其機會成本為多少？
- (A) 9 千元 (B) 1 萬元 (C) 7 千元 (D) 3 萬 4 千元

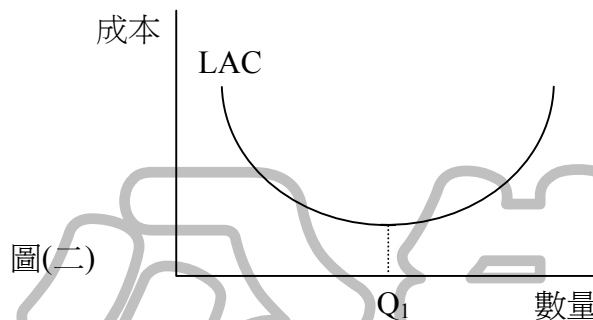
22. 若一正常財貨 A 之需求線 (以 D 表示) 為負斜率，而供給線 (以 S 表示) 為正斜率，兩線交點如圖(一)，在其他條件不變下，當所得增加且生產技術進步時，下列敘述何者正確？
- (A) 均衡交易數量增加
 (B) 均衡交易價格必定下跌
 (C) 均衡交易數量減少
 (D) 均衡交易價格與數量同時下降



23. 下列敘述，何者反映豬肉供給變動的現象？
- (A) 飼料玉米價格大漲，毛豬生產成本增加
 (B) 消費者關切肉品食用安全問題，豬肉購買量減少
 (C) 牛肉價格下跌，消費者增加牛肉的消費而減少豬肉的消費
 (D) 賣場以 7 折優惠價出售豬肉，造成豬肉熱賣
24. 假設某市場的需求函數為 $Q = (150 - P) / 3$ ，供給函數為 $Q = (P - 50) / 2$ ，則下列敘述何者錯誤？
- (A) 消費者剩餘為 600
 (B) 生產者剩餘為 600
 (C) 均衡價格為 90，均衡數量為 20
 (D) 當價格是 70 時，生產者願意供給的數量是 10
25. 假設某人消費橘子 5 個，總效用為 160 單位；消費第 6 個之後，總效用為 180 單位，請問消費第 6 個橘子之邊際效用為多少？
- (A) 100 (B) 40 (C) 30 (D) 20
26. 財貨 X 的價格為 10 元，財貨 Y 的價格為 15 元，現若一消費者所購買的 X 與 Y 的均衡組合中，兩財貨之數量皆為 1 單位，而均衡時 X 的邊際效用為 30，請問均衡時 Y 的邊際效用為多少？
- (A) 30 (B) 45 (C) 20 (D) 15
27. 若其他條件不變下，某一廠商的長期生產過程中，出現每一種生產要素投入量都增加 2 倍，而產量只增加 0.5 倍時，此種產量增加比例小於所有生產要素增加比例的生產關係，稱為：
- (A) 規模報酬遞減 (B) 邊際替代率遞減 (C) 邊際效用遞減 (D) 邊際報酬遞減

28. 某廠商僅使用資本 (K) 與勞動 (L) 兩種生產要素進行財貨 X 之生產，產量為 Q。短期而言，僅有 L 可以變動，長期則兩種要素都可以調整，請問下列敘述何者正確？
 (A) 長期生產函數為 $Q = f(L)$ (B) 短期生產函數為 $Q = f(K)$
 (C) 勞動和資本在長期皆為固定生產要素 (D) 長期生產函數為 $Q = f(L, K)$

29. 獨占性競爭市場下的某一廠商，此廠商之長期平均成本線如圖(二)中之LAC線，則：
 (A) 此廠商所面對的需求線為水平線
 (B) 此廠商長期均衡下之經濟利潤大於零
 (C) 長期時此廠商的均衡產量小於LAC最低點之產量 Q_1
 (D) 長期時此廠商的均衡產量等於LAC最低點之產量 Q_1



30. 完全競爭市場中之 A 廠商於短期均衡時，其平均總成本為 50，邊際收益為 70，產量為 120，則下列有關此短期均衡時的敘述，何者正確？
 (A) 此時 A 廠商有虧損，會退出市場 (B) 此時 A 廠商之平均變動成本為 70
 (C) 此時市場價格為 70 (D) 此時 A 廠商總成本為 8400
31. 若 A、B 兩市場之需求的價格彈性分別以 E_A 與 E_B 表示，而 A、B 兩市場之價格分別以 P_A 與 P_B 表示。追求利潤最大化的獨占廠商，若其有能力將此兩市場區隔，當其在兩市場採取差別訂價，且 $E_A > E_B$ 而其他條件相同下，則兩市場應如何訂價？
 (A) $P_A > P_B$ (B) $P_A < P_B$
 (C) $P_A = P_B$ (D) $P_A = E_A + E_B$ 且 $P_B = 0$
32. 若某國 2005 年國民所得 (NI) 為 400，間接稅為 30，折舊為 20，則國民生產毛額 (GNP) 為：
 (A) 350 (B) 370 (C) 430 (D) 450
33. 勞動生產力的計算公式，是為：
 (A) 總產量除以總人口 (B) 總產量除以勞動投入量
 (C) 總產量除以失業率 (D) 總產量除以工資率
34. 在充分就業的水準下，實際的總需求 (支出) 小於維持充分就業所得水準的總需求 (支出)，兩者的差額為：
 (A) 貿易逆差 (B) 膨脹缺口 (C) 緊縮缺口 (D) 通貨膨脹
35. 在簡單的凱因斯模型中， $Y = C + I$ ，其中 Y 為所得，C 為消費，I 為投資，若儲蓄函數 $S = -50 + 0.2Y$ ， $I = 50$ ，則均衡所得為：
 (A) 50 (B) 200 (C) 400 (D) 500

36. 假設A國2005年實質國民生產毛額(GNP)為500億美元,2006年的實質國民生產毛額(GNP)為550億美元,則A國2006年的經濟成長率為:
(A) 50% (B) 11% (C) 10% (D) 8%
37. 根據購買力平價說,若匯率不變,外國物價上漲,則本國物價會:
(A) 不變 (B) 上漲 (C) 下跌 (D) 升降皆有可能
38. 所謂自然失業率是指在充分就業之下,仍有失業人口存在,自然失業包括:
(A) 結構性失業與隱藏性失業 (B) 循環性失業與摩擦性失業
(C) 結構性失業與摩擦性失業 (D) 結構性失業與循環性失業
39. 根據民間消費支出、國內投資毛額、政府消費支出及淨出口所計算出來的國內生產毛額(GDP),是根據哪一個角度之方法計算得到的?
(A) 生產面法 (B) 存量面法 (C) 所得分配面法 (D) 支出面法
40. 下列何者會增加本國的外匯供給?
(A) 本國財貨或勞務的出口 (B) 本國政府對外國的援助
(C) 本國進口商支付進口商品的貨款 (D) 本國國民出國旅遊期間在國外的支出

【以下空白】

公告 試題