



九十四學年度技術校院四年制與專科學校二年制 統一入學測驗補救考試試題

准考證號碼：□□□□□□□□

(請考生自行填寫)

專業科目(二)

工程與管理類管理組

企業管理、計算機概論

【注意事項】

1. 請先核對考試科目與報考類別是否相符。
2. 本試題均為單一選擇題，每題都有 (A)、(B)、(C)、(D) 四個選項，請選出一個最適當的答案，然後在答案卡上同一題號相對位置方格內，用 2B 鉛筆全部塗黑。
3. 有關數值計算的題目，以最接近的答案為準。
4. 本試題紙空白處或背面，可做草稿使用。
5. 請在試題首頁准考證號碼之方格內，填上自己的准考證號碼，考完後將「答案卡」及「試題」一併繳回。
6. 本試題分兩部份，共 100 分，答錯不倒扣。
第一部份 (第 1 至 20 題，每題 2.5 分，共 50 分)
第二部份 (第 21 至 40 題，每題 2.5 分，共 50 分)

第一部份：企業管理（第 1 至 20 題，每題 2.5 分，共 50 分）

1. 在台灣地區，有許多營建公司投入百貨或休閒產業，這樣的發展模式稱爲：
(A) 業務外包 (B) 相關多角化 (C) 非相關多角化 (D) 業務核心化
2. 管理者每日都必須執行許多不同的角色。下列何者不屬於明茲伯格（Henry Mintzberg）的觀察發現？
(A) 發言人 (B) 聯絡者 (C) 傳遞者 (D) 創新者
3. 某集團公司的產品組合包括豬飼料以及雞隻、肉品等，該公司的豬飼料部門在台灣的市佔率不高，而且近年來隨著環保意識抬頭以及開放進口，使得台灣養豬數量大減。根據 BCG 模式的觀點，該公司的豬飼料部門應採取何種策略？
(A) 改善生產效率以穩住地盤 (B) 改善配銷通路以開拓市場
(C) 考慮大量增加投資以增加競爭力 (D) 退出此事業並回收資金
4. 下列何者不屬於任務環境的部分？
(A) 競爭者 (B) 社會文化 (C) 供應商 (D) 主管機關
5. 將全球視爲一個整體市場，考量全球性的營運環境與世界性消費需求，藉由集中的生產據點獲取成本上的優勢的公司可稱之爲：
(A) 國際企業 (B) 全球企業 (C) 多國企業 (D) 跨國企業
6. 下列何點不屬於費堯（Henri Fayaol）的十四點原則？
(A) 權責相稱原則 (B) 獎酬公平原則 (C) 指揮統一原則 (D) 充分授權原則
7. 科學管理之父泰勒提出了四項「科學管理原則」，試問何者強調分工合作的重要性？
(A) 科學動作原則 (B) 科學選用員工原則
(C) 職能式領導原則 (D) 誠心合作原則
8. 下列何者應屬於景氣的落後指標？
(A) 新企業數目 (B) 耐久財新訂單 (C) 失業率 (D) 股價指數
9. 直接向管理者報告的部屬人數稱之爲：
(A) 控制幅度 (B) 任命人數 (C) 直線下屬 (D) 組織規模
10. 下列何者關於組織的敘述錯誤？
(A) 使用標準化的大批量生產方式時，適合使用機械式組織
(B) 產業環境較爲穩定時，適合使用機械式組織
(C) 若採取高度顧客回應的差異化策略，適合使用有機式組織
(D) 若採取成本領導策略，適合使用有機式組織

11. 人事部門在依大批應徵者中，選出最具有能力、經驗、知識的人，以符合該項工作要求的程序稱爲：
- (A) 甄選 (B) 招募 (C) 任用 (D) 分派
12. 在進行學期成績評量時，老師想到小君同學平時口齒清晰，台風穩健的報告甚爲激賞，所以對小君同學的其他評量項目都不自主地給了高分。請問這位老師可能陷入了那個盲點？
- (A) 短期記憶效果 (B) 中央傾向 (C) 寬嚴不一 (D) 月暈效果
13. 下列何者關於費德勒的權變領導模式何者錯誤？
- (A) 當領導情境處於有利的極端時，應採取人際導向的領導風格
 (B) 當領導情境處於不利的極端時，應採取工作導向的領導風格
 (C) 當領導情境處於適中的情況時，應採取人際導向的領導風格
 (D) 領導者與部屬關係、任務結構、職位權力爲其三個權變變數
14. 根據路徑目標理論，當部屬缺乏自信時應採用何種領導者行爲？
- (A) 支持型領導 (B) 指導型領導 (C) 成就導向型領導 (D) 參與型領導
15. 在溝通的過程中，若 A：編碼；B：解碼；C：回饋；D：媒介。則訊息從發訊者到接收者間應經過哪些程序才正確？
- (A) ADC (B) ADB (C) BDC (D) BDA
16. 下列何者不屬於法蘭屈及雷門 (French & Raven) 所稱的權力的來源？
- (A) 參考權力 (B) 獎賞權力 (C) 資訊權力 (D) 專家權力
17. 小芸畢業後到生產線上工作，發現她必須先接受標準作業程序的教育訓練，而未來的工作程序已經一步一步的清楚畫在標準作業程序 (SOP) 圖上。試問這樣的訓練可算是哪一類控制？
- (A) 事前控制 (B) 事中控制 (C) 事後控制 (D) 矯正控制
18. 在進行企業診斷時，判斷企業所投入的資源與產出的比較效益的診斷稱爲：
- (A) 安定力診斷 (B) 收益力診斷 (C) 活動力診斷 (D) 生產力診斷
19. DELL 電腦公司詳細的將零件供應商、製造商、零售商、及顧客間的關係串連起來，使得半成品、商品、資金及資訊的流通均能做有效的管理。這樣的管理活動稱爲：
- (A) 客戶關係管理 (B) 供應鍊管理 (C) 企業資源規劃 (D) 決策資源系統
20. 下列有關資訊科技的運用可能對組織與管理的影響何者錯誤？
- (A) 組織的階層數目可能減少 (B) 可增加組織彈性
 (C) 組織的控制幅度大幅減少 (D) 可能使組織分工更細

第二部份：計算機概論 (第 21 至 40 題，每題 2.5 分，共 50 分)

21. 經由網路向證券交易所下單購買股票，這是屬於下列哪一型態的電子商務？
- (A) B2C (B) B2B (C) C2C (D) C2B

22. 下列何者最適合讓學生和電腦以一對一的方式進行互動式教學，透過不斷講解與練習，以達到教學目的？
- (A) 電腦輔助教學系統 (B) 電腦輔助製造系統
(C) 電腦輔助設計系統 (D) 教學廣播系統
23. 下列哪一種記憶體需要不斷充電才能保存資料？
- (A) EPROM (B) ROM (C) SRAM (D) DRAM
24. 下列何者最適合將數位相機連接至個人電腦？
- (A) PS/2 (B) RJ-45 (C) USB (D) AGP
25. 在電腦的基本架構中，暫存器是內建在下列哪一個單元中？
- (A) 輸入單元 (B) 輸出單元 (C) 記憶單元 (D) 中央處理單元
26. 下列何者正確？
- (A) $(1010.101)_2 = (10.625)_{10}$ (B) $(1010.101)_2 = (10.75)_{10}$
(C) $(12D)_{16} = (288)_{10}$ (D) $(127)_8 = (108)_{10}$
27. 下列何者是 Windows 作業系統的主要功能？
- (A) 自動清除駭客入侵程式 (B) 分配系統資源
(C) 上網搜尋資料 (D) 即時視訊會議
28. 下列何者是 Windows 作業系統可支援的檔案名稱？
- (A) file!.txt (B) file?.txt (C) file:.txt (D) file*.txt
29. 在 Microsoft Excel 中，若 A1、B1 和 C1 儲存格內的資料分別為 2、3 和 4，此時在 D1 儲存格輸入公式： $= \text{COUNT}(A1:C1)$ ，則下列何者是 D1 儲存格內所顯示的數值？
- (A) 2 (B) 3 (C) 4 (D) 9
30. 在 Windows 作業系統中，下列何者是以數據機撥號上網時，最常採用之通訊協定？
- (A) HTTP (B) ISP (C) WWW (D) PPP
31. 欲在網頁中加入動態圖片，下列何者是此圖片最適合的格式？
- (A) BMP (B) EPS (C) GIF (D) JPEG
32. 下列何者能將位址： www.orange.com.tw ，翻譯為 IP 位址？
- (A) Archie Server (B) BBS Server
(C) Domain Name Server (D) Gopher Server

33. 執行下列 Visual Basic 程式片段後，請問 S = ?

```
Dim S, I As Integer
S = 13
For I = 1 to 3
    S = S/2
Next I
```

- (A) 1 (B) 2 (C) 4 (D) 6

34. 執行下列 Visual Basic 程式片段後，請問 S = ?

```
Dim S, I As Integer
S = 10
I = 0
Do
    I = I + 1
    S = S - 1
Loop Until I > 3
```

- (A) 4 (B) 5 (C) 6 (D) 7

35. 執行下列 Visual Basic 程式片段後，請問 S = ?

```
Dim S As integer
S = 2 * -3 ^ 2 MOD 5
```





- (A) -18 (B) -3 (C) 8 (D) 18

36. 執行下列 Visual Basic 程式片段後，請問 S = ?

```
Dim S, X As Integer
S = 0
X = 1
Do While X < 10
    X = X + 1
    If ( X Mod 3 < 1 ) Then
        S = S + X
    End If
Loop
```

- (A) 9 (B) 12 (C) 18 (D) 24

【背面尚有試題】

37. 在 Visual Basic 語言中，下列哪一個是合法的變數名稱？
(A) nEw_7day (B) %width (C) 5dollars (D) #height
38. 下列哪一個符號為流程圖的處理 (Process) 符號？
(A)  (B)  (C)  (D) 
39. 下列何種軟體不具備影像處理功能？
(A) CorelDraw (B) PhotoDraw (C) PhotoShop (D) PowerPoint
40. 以下列何種格式儲存一段 30 秒聲音，其所佔用的儲存空間為最大？
(A) Au (B) Midi (C) Mp3 (D) Wav

【以下空白】

公告 試題

公告 試題